

## Examen de Matemáticas 2º Bachillerato (CS)

### Diciembre 2023

---

**Problema 1** (5 puntos) Sean la función  $F(x, y) = 5x - 3y$  y la región del plano  $R$  definida mediante las inecuaciones

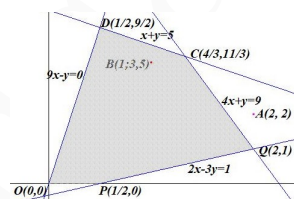
$$2x - 3y \leq 1; \quad 4x + y \leq 9; \quad x + y \leq 5; \quad 9x - y \geq 0; \quad y \geq 0$$

- (1,3 puntos) Dibuje la región  $R$  y calcule sus vértices.
- (0,5 puntos) Indique razonadamente si los puntos  $A(2, 2)$  y  $B(1; 3, 5)$  pertenecen a la región  $R$ .
- (0,7 puntos) Obtenga los puntos de la región  $R$  donde  $F$  alcanza el máximo y el mínimo y calcule sus correspondientes valores.

**Solución:**

- El recinto  $R$  (región factible):

$$\begin{cases} 2x - 3y \leq 1 \\ 4x + y \leq 9 \\ x + y \leq 5 \\ 9x - y \geq 0 \\ y \geq 0 \end{cases}$$



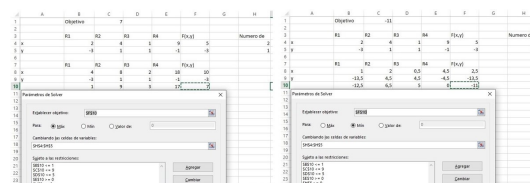
Los vértices a estudiar serán:  $O(0, 0)$ ,  $P\left(\frac{1}{2}, 0\right)$ ,  $Q(2, 1)$ ,  $C\left(\frac{4}{3}, \frac{11}{3}\right)$  y  $D\left(\frac{1}{2}, \frac{9}{2}\right)$ .

El punto  $A(2, 2) \notin R$  y el  $B(1; 3, 5) \in R$ , el punto  $A$  no cumple las condiciones para ser una solución, en cambio el punto  $B$  si las cumple aunque no sea la solución óptima.

- La función objetivo:  $F(x, y) = 5x - 3y$

$$\begin{cases} F(0, 0) = 0 \\ F\left(\frac{1}{2}, 0\right) = 2,5 \\ F(2, 1) = 7 \text{ Máximo} \\ F\left(\frac{4}{3}, \frac{11}{3}\right) = -4,33 \\ F\left(\frac{1}{2}, \frac{9}{2}\right) = -11 \text{ Mínimo} \end{cases}$$

Solución por solver :



El máximo se encuentra en el punto  $Q(2, 1)$  y vale 7.

El mínimo se encuentra en el punto  $D\left(\frac{1}{2}, \frac{9}{2}\right)$  y vale -11.

**Problema 2** (5 puntos) Un artesano decide montar dos tipos de anillos utilizando dos tipos de piedras semipreciosas, una de mayor calidad que otra. Para montar uno de los

anillos tarda 20 minutos y utiliza 1 de las piedras de mayor calidad y 2 de las de menor calidad. Para el otro tarda 50 minutos y utiliza 3 piedras de mayor calidad y 1 de menor calidad.

Semanalmente, el artesano dispone de 200 piedras de mayor calidad y 150 de menor calidad. Además, quiere trabajar al menos 1900 minutos a la semana.

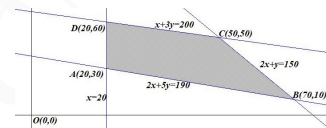
Sabiendo que el primer tipo de anillo se vende a 21€, el segundo a 50€ y que deben fabricarse al menos 20 anillos del primer tipo a la semana, determine cuántos anillos de cada tipo deben montarse para maximizar el valor de la venta. ¿A cuánto asciende dicho valor?

**Solución:**

Sea  $x$  anillos  $A$  e  $y$  anillos  $B$ .

	tiempo	mayor calidad	menor calidad	precio de venta
$A$	20	1	2	21
$B$	50	3	1	50
	$\geq 1900$	$\leq 200$	$\leq 150$	

$$S : \begin{cases} 20x + 50y \geq 1900 \\ x + 3y \leq 200 \\ 2x + y \leq 150 \\ x \geq 20 \\ y \geq 0 \end{cases} \implies \begin{cases} 2x + 5y \geq 190 \\ x + 3y \leq 200 \\ 2x + y \leq 150 \\ x \geq 20 \\ y \geq 0 \end{cases}$$

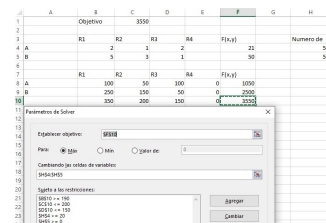


Solución por solver :

Los vértices a estudiar serán:  $A(20, 30)$ ,  $B(70, 10)$ ,  $C(50, 50)$  y  $D(20, 60)$ .

$$f(x, y) = 21x + 50y$$

$$\begin{cases} f(20, 30) = 1920 \\ f(70, 10) = 1970 \\ f(50, 50) = 3550 \leftarrow \text{Máximo} \\ f(20, 60) = 3420 \end{cases} \implies$$



El mayor valor de venta es de 3550€ y corresponde a la fabricación de 50 anillos del primer tipo ( $A$ ) y a 50 del segundo ( $B$ ).